

I- IDENTIFICACIÓN DE LA PRESENTACIÓN N° 004 /2022

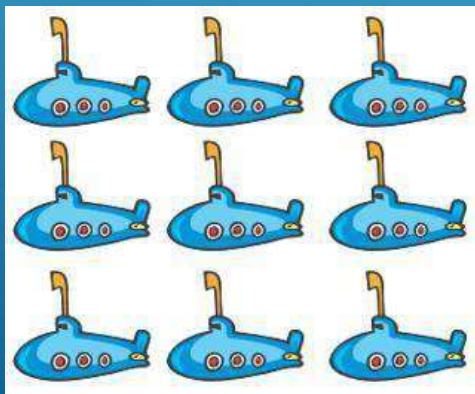
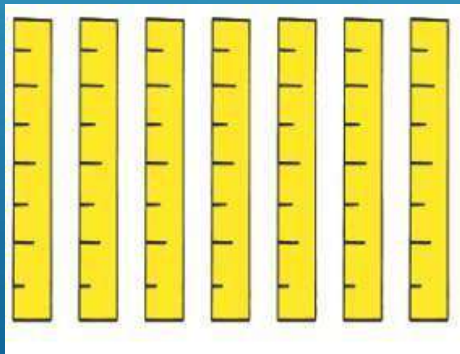


ASIGNATURA	MATEMÁTICAS
PROFESOR	HEYDY MORALES
CURSO	1° BÁSICO
SEMESTRE	PRIMERO



II- GESTIÓN CURRICULAR

OBJETIVO	ASOCIAR NÚMERO Y CANTIDAD		
CONTENIDO	CÁLCULO MENTAL		
NÚMERO DE CLASE	004 - 2022	FECHA	MIÉRCOLES 09/03/2022
ACTIVIDAD PRÁCTICA	REPRESENTACIÓN DE NÚMEROS A TRAVÉS DE OBJETOS PRESENTES EN EL HOGAR		
MATERIAL	CUADERNO - LÁPIZ - COLORES - OBJETOS VARIOS		

**IDENTIFICAR
NÚMEROS
Y CANTIDADES**



**IDENTIFICAR
NÚMEROS
Y CANTIDADES**



2



7








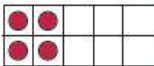
TRABAJEMOS EN CLASES

TEXTO 1 ASTORECA

Reconocer 3 y 4

	
3 tres 	4 cuatro 

Encierre el número de elementos.

<p>1</p>  <p><input checked="" type="checkbox"/> 3 4</p>	<p>2</p>  <p>3 4</p>	<p>3</p>  <p>3 4</p>
<p>4</p>  <p>3 4</p>	<p>5</p>  <p>3 4</p>	<p>6</p>  <p>3 4</p>







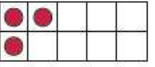
17

Escribir 3 y 4

Escriba 3 y 4. Respete la dirección del número.

3													
4													

Escriba el número de elementos.

<p>1</p>  <p></p>	<p>2</p>  <p><input type="checkbox"/></p>
<p>3</p>  <p><input type="checkbox"/></p>	<p>4</p>  <p><input type="checkbox"/></p>
<p>5</p>  <p><input type="checkbox"/></p>	<p>6</p>  <p><input type="checkbox"/></p>

18

TRABAJEMOS EN CLASES

TEXTO 1 ASTORECA

Dibujar 3 o 4 objetos

Escriba 3 y 4. Respete la dirección del número.

3	3	3									
---	---	---	--	--	--	--	--	--	--	--	--

4	4	4									
---	---	---	--	--	--	--	--	--	--	--	--

Dibuje la cantidad de objetos que indica el número.

1	2
3	4
3	4
4	3

Escriba los números que dicte su profesor.

1	2	3	4
●	●	●	●
□	□	□	□



¿ QUÉ HEMOS
APRENDIDO HOY?

